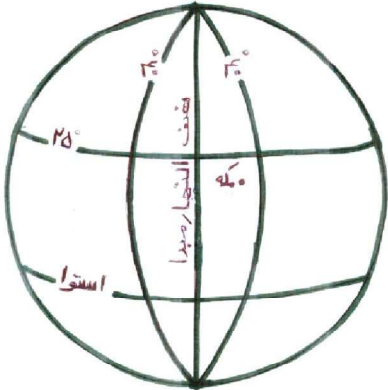


سؤالات امتحان هماهنگ شهر تهران درس: <b>مطالعات اجتماعی</b>	ساعت شروع: ۸ صبح	مدت امتحان: ۹۰ دقیقه
نام و نام خانوادگی:	تاریخ امتحان: ۱۳۹۸/۰۳/۱۸	صفحه ۱ از ۴
<b>پایه نهم دوره اول متوسطه خرداد ماه ۱۳۹۸</b>		

ردیف	سؤالات	بارم
------	--------	------

بخش اختیاری فصل اول تا آخر فصل ششم دانش آموز عزیز لطفاً در این بخش فقط دو فصل را انتخاب کنید و به سؤالات همان دو فصل پاسخ دهید.

۰/۵	۱- در جمله زیر یک عبارت نادرست وجود دارد، آن را درست کنید. «زمین در حرکت انتقالی، در ۲۴ ساعت یک بار به دور محور خود می چرخد.»									
۱	۲- جدول را کامل کنید. <table border="1" style="margin-left: auto; margin-right: auto;"> <thead> <tr> <th>جنس</th> <th>مدار گردش</th> <th>تعداد قمر</th> </tr> </thead> <tbody> <tr> <td>سیارات درونی (۱)</td> <td>کوچک تر</td> <td>(۲)</td> </tr> <tr> <td>سیارات بیرونی (۳)</td> <td>(۴)</td> <td>زیاد</td> </tr> </tbody> </table>	جنس	مدار گردش	تعداد قمر	سیارات درونی (۱)	کوچک تر	(۲)	سیارات بیرونی (۳)	(۴)	زیاد
جنس	مدار گردش	تعداد قمر								
سیارات درونی (۱)	کوچک تر	(۲)								
سیارات بیرونی (۳)	(۴)	زیاد								
۱	۳- با توجه به شکل به سؤالات زیر پاسخ دهید. الف) نقطه A را با مختصات $40^{\circ}$ شرقی و $25^{\circ}$ شمالی بر روی شکل نشان دهید. ب) قبله نقطه A به چه جهتی است؟ 									

فصل اول

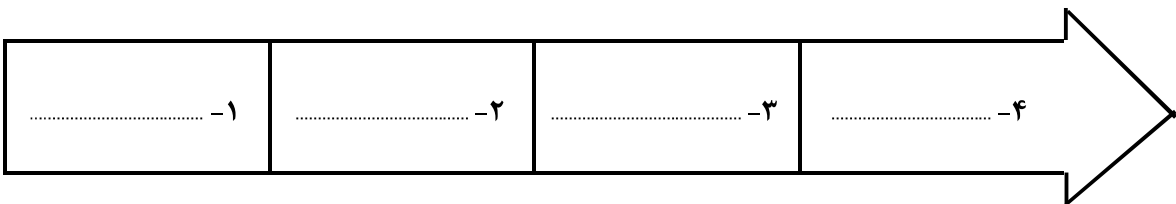
۰/۲۵	۴- تغییرات آب و هوایی در کدام لایه جو دیده می شود؟ الف) اتمسفر <input type="checkbox"/> ب) تروپوسفر <input type="checkbox"/> ج) لیتوسفر <input type="checkbox"/> د) بیوسفر <input type="checkbox"/>
۰/۷۵	۵- ارتباط دهید. (وصل کنید). (یک مورد سمت چپ اضافه است). ۱- فلات <input type="checkbox"/> ۲- کوه های کم ارتفاع <input type="checkbox"/> ۳- کوه های بلند و مرتفع <input type="checkbox"/> الف) دارای دره های V شکل و تنگ <input type="checkbox"/> ب) دارای قله های گنبدی و شیب دامنه کم <input type="checkbox"/> ج) ناحیه ای کم عمق با ژرفای کم تر از ۲۰۰ متر <input type="checkbox"/> د) سرزمین های نسبتاً هموار و بلند که از اطراف به نواحی پست منتهی می شوند. <input type="checkbox"/>
۱/۵	۶- نمودار زیر را کامل کنید. عوامل مؤثر بر آب و هوای جهان زاویه تابش خورشید و عرض جغرافیایی (الف) ..... (ب) ..... (ج) .....

فصل دوم

۰/۵	۷- جنگل زدایی چه تأثیری بر گرم شدن زمین دارد؟ (یک مورد) .....													
۱	۸- شما به عنوان یک فرد مسئول در برابر محیط زیست، برای استفاده خردمندانه و صحیح از جنگل چه پیشنهادی می توانید ارائه دهید؟ (یک مورد) .....													
۱	۹- هر مورد مربوط به کدام زیست بوم است؟ (یک مورد اضافه است). <table border="1" style="margin-left: auto; margin-right: auto;"> <tr> <td>توندرا</td> <td>جنگل های بارانی استوایی</td> <td>تایگا</td> <td>ساوان</td> <td>بیابان</td> </tr> </table> <table border="1" style="margin-left: auto; margin-right: auto; margin-top: 10px;"> <tr> <td>بوته های خاردار</td> <td>بائوباب</td> <td>درختان سوزنی برگ</td> <td>خزه و گل سنگ</td> </tr> <tr> <td>الف) .....</td> <td>ب) .....</td> <td>ج) .....</td> <td>د) .....</td> </tr> </table>	توندرا	جنگل های بارانی استوایی	تایگا	ساوان	بیابان	بوته های خاردار	بائوباب	درختان سوزنی برگ	خزه و گل سنگ	الف) .....	ب) .....	ج) .....	د) .....
توندرا	جنگل های بارانی استوایی	تایگا	ساوان	بیابان										
بوته های خاردار	بائوباب	درختان سوزنی برگ	خزه و گل سنگ											
الف) .....	ب) .....	ج) .....	د) .....											

فصل سوم

سؤالات امتحان هماهنگ شهر تهران درس: مطالعات اجتماعی		مدت امتحان: ۹۰ دقیقه	ساعت شروع: ۸ صبح
نام و نام خانوادگی:		تاریخ امتحان: ۱۳۹۸/۰۳/۱۸	صفحه ۲ از ۴
پایه نهم دوره اول متوسطه خرداد ماه ۱۳۹۸		اداره کل آموزش و پرورش شهر تهران	
ردیف	سؤالات	بارم	
فصل چهارم	۱۰- دو مورد از شاخص‌های توسعه انسانی را بنویسید. الف) ..... ب) .....	۰/۵	
	۱۱- کدام یک از موارد زیر از عوامل طبیعی جذب جمعیت و کدامیک از عوامل انسانی جذب جمعیت می‌باشد؟ (آب و هوای موسمی، بیمارستان، جلگه‌های آبرفتی، مساجد و اماکن مذهبی) عوامل طبیعی جذب جمعیت: ..... عوامل انسانی جذب جمعیت: .....	۱	
	۱۲- دو مورد از عوامل داخلی نابرابری را در یک کشور بنویسید. الف) ..... ب) .....	۱	
فصل پنجم	۱۳- متن زیر، بخشی از سفرنامه شاردن می‌باشد. با توجه به متن به سؤالات زیر پاسخ دهید. «روز هفدهم بعد از سپردن شش فرسنگ راه در مسیر روزهای پیش و عبور از سرزمین‌های سرسبز و پر درخت وارد تبریز شدیم. سراسر دو طرف راه پوشیده از کشتزارهای گسترده بود. تبریز شهری است، بزرگ، پر جمعیت و از لحاظ بازرگانی و ثروت و جمعیت دومین شهر ایران است. آبادترین و بهترین بازارهای آسیا در این شهر می‌باشد.» الف) شرایط اقتصادی ایران در دوره صفوی چگونه بود؟ با توجه به متن یک دلیل بنویسید. .... ب) یک مورد از عوامل رونق تجارت در عصر صفوی که در متن به آن اشاره شده است را بنویسید. ....	۱ ۰/۵	
	۱۴- هر یک از اقدامات زیر توسط کدام یک از شاهان صفوی روی داده است؟ الف) تثبیت و تحکیم حکومت صفوی: ..... ب) تشکیل و تجهیز سپاهی از غیر قزلباش‌ها: .....	۱	
	۱۵- گزینه مناسب را انتخاب کرده و علامت بزنید. ۱- مدرسه دارالفنون توسط چه کسی تأسیس شد؟ الف) حسن رشديه <input type="checkbox"/> ب) قائم مقام فراهانی <input type="checkbox"/> ج) امیرکبیر <input type="checkbox"/> د) عباس میرزا <input type="checkbox"/> ۲- در زمان سلطنت کدام یک از شاهان قاجار، انگلستان تعدادی از جزایر خلیج فارس را اشغال و تبدیل به پایگاه نظامی کرد؟ الف) آقا محمد خان <input type="checkbox"/> ب) فتحعلی شاه <input type="checkbox"/> ج) محمدعلی شاه <input type="checkbox"/> د) ناصرالدین شاه <input type="checkbox"/>	۰/۵	
فصل ششم	۱۶- وقایع زیر را به ترتیب زمان وقوع مرتب بنویسید. سی سال ثبات و آرامش نسبی در کشور / آغاز نفوذ و دخالت گسترده روسیه، انگلستان و فرانسه در ایران / لشکرکشی به هند و فتح دهلی / ناخشنودی مردم از عهدنامه گلستان	۱	
	۱۷- به نظر شما واگذاری امتیازات اقتصادی به بیگانگان در زمان ناصرالدین شاه، چه آسیبی به اقتصاد کشور وارد می‌کرد؟ (یک مورد) .....	۱	



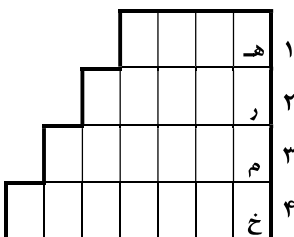
سؤالات امتحان هماهنگ شهر تهران درس: مطالعات اجتماعی	ساعت شروع: ۸ صبح	مدت امتحان: ۹۰ دقیقه
نام و نام خانوادگی:	تاریخ امتحان: ۱۳۹۸/۰۳/۱۸	صفحه ۳ از ۴
<b>پایه نهم دوره اول متوسطه خرداد ماه ۱۳۹۸</b>		
ردیف	سؤالات	بارم

**بخش اجباری فصل هفتم تا دوازدهم** دانش آموز عزیز لطفاً به همی سؤالات از ۱۸ تا ۳۴ که شامل فصل هفتم تا دوازدهم می باشد، به طور کامل پاسخ دهید.

۰/۲۵	۱۸- در تاریخ ۳۱ شهریور ۱۳۵۹ با حمله صدام به آبادان، جنگ تحمیلی علیه ایران آغاز شد. درست <input type="checkbox"/> نادرست <input type="checkbox"/>
۰/۲۵	۱۹- انقلاب مشروطه، در زمان پادشاهی ..... به وقوع پیوست. الف) احمد شاه <input type="checkbox"/> ب) محمد شاه <input type="checkbox"/> ج) مظفرالدین شاه <input type="checkbox"/> د) محمدعلی شاه <input type="checkbox"/>
۰/۵	۲۰- ارتباط دهید. (وصل کنید). (عوامل و زمینه های وقوع انقلاب مشروطه) (یک مورد سمت چپ اضافه است). ۱- تسلط بیگانگان بر منابع ثروت <input type="checkbox"/> ۲- تلاش روشنفکران برای آشنا کردن مردم با محاسن حکومت قانون <input type="checkbox"/> الف) عوامل سیاسی - اقتصادی <input type="checkbox"/> ب) عوامل داخلی، فکری و فرهنگی <input type="checkbox"/> ج) عوامل خارجی، فکری و فرهنگی <input type="checkbox"/>
۱	۲۱- زهرا می خواهد مقاله ای در مورد جنگ جهانی دوم بنویسد. در ارتباط با سؤالات زیر او را راهنمایی کنید. (دو مورد) الف) بهانه کشورهای متفق از اشغال ایران چه بود؟ ب) هدف اصلی متفقین از اشغال ایران چه بود؟ (دو مورد)
۱	۲۲) طبق قرارداد ۱۹۰۷ ایران به سه منطقه تقسیم شد. الف) این قرارداد بین چه کشورهایی بسته شد؟ ب) چرا این کشورها تصمیم گرفتند رقابت را کنار گذاشته با یکدیگر همکاری کنند؟
۱	۲۳) علت مخالفت امام خمینی (ره) با کاپیتولاسیون (مصونیت قضایی مأموران نظامی آمریکایی) چه بود؟
۱	۲۴- جدول زیر را کامل کنید. ۱- از نهادهای انقلابی که با هدف دفاع از مرز و بوم کشور تشکیل شد. ۲- از اندیشمندانی که اسلام انقلابی را به جوانان معرفی کرد. ۳- پس از ارتحال امام خمینی (ره)، این مجلس آیتاله خامنه ای (مدظله العالی) را به رهبری برگزیدند. ۴- از مخالفان قرارداد ۱۹۱۹ بود.
۰/۵	۲۵- گزینه صحیح را انتخاب نموده و علامت بزنید. ۱- بنیان خانواده بر چه چیزی استوار است؟ الف) جمعیت <input type="checkbox"/> ب) آرامش <input type="checkbox"/> ج) فرزند <input type="checkbox"/> د) ازدواج <input type="checkbox"/> ۲- بیت مقابل به چه هویتی اشاره دارد؟ «چو ایران نباشد تن من مباد در این مرز و بوم زنده یک تن مباد» الف) هویت فردی <input type="checkbox"/> ب) هویت روحی و روانی <input type="checkbox"/> ج) هویت ملی <input type="checkbox"/> د) هویت جسمانی <input type="checkbox"/>
۱	۲۶- ارتباط دهید. (وصل کنید). (هر یک از موارد زیر از وظایف چه نهاد و یا اشخاصی است؟) (یک مورد سمت چپ اضافه است). ۱- وضع و اجرای قوانین <input type="checkbox"/> ۲- رعایت قوانین و مقررات <input type="checkbox"/> ۳- تعیین سیاست های کلی نظام <input type="checkbox"/> ۴- همکاری برای پیشبرد برنامه های اجتماعی، عمرانی، فرهنگی و اقتصادی <input type="checkbox"/> الف) رهبری <input type="checkbox"/> ب) حکومت <input type="checkbox"/> ج) شهروندان <input type="checkbox"/> د) مجلس شورای اسلامی <input type="checkbox"/> ه) شوراهای اسلامی شهر و روستا <input type="checkbox"/>
۱	۲۷- با توجه به ویژگی های هویتی خود یک ویژگی اکتسابی خویش را بنویسید. .....

مدت امتحان: ۹۰ دقیقه	ساعات شروع: ۸ صبح	سؤالات امتحان هماهنگ شهر تهران درس: مطالعات اجتماعی
صفحه ۴ از ۴	تاریخ امتحان: ۱۳۹۸/۰۳/۱۸	نام و نام خانوادگی:
اداره کل آموزش و پرورش شهر تهران		پایه نهم دوره اول متوسطه خرداد ماه ۱۳۹۸

بارم	سؤالات	ردیف
------	--------	------

۱	 <p>۱- احساس و آگاهی و شناخت خود ۲- مهمترین رکن حکومت جمهوری اسلامی ایران ۳- مبلغی که شهروندان بر اساس قانون و بلاعوض به دولت برای هزینه‌های عمومی کشور می‌پردازند. ۴- مهمترین قانون اجتماعی شدن فرد</p>	۲۸- جدول زیر را کامل کنید.
---	---	----------------------------

۱	<p>۲۹- با توجه به متن یک هنجار و یک ارزش بنویسید. «شیر بچه عرب اهل خوزستان که در سیل فروردین ماه ۹۸ با دستان کوچک خود با پر کردن گونی برای ایجاد سیل‌بند در دفاع از اهواز تلاش می‌کرد از تبار همان کوه‌های غیرتی است که روزگاری نه چندان دور با دستانی خالی در برابر تانک‌ها و طیاره‌های دشمن برای دفاع از وطن ایستادگی کردند، شجاعت و مقاومت این فرزندان ایران زمین ستودنی است.» الف) هنجار: ..... ب) ارزش: .....</p>	
---	--	--

۱	<p>۳۰- نمودار زیر را کامل کنید.</p> <div style="display: flex; align-items: center;"> <div style="border: 1px solid black; padding: 5px; margin-right: 10px;">۱- از نظر تقوا و عدالت از سایر مردم بالاتر باشند.</div> <div style="border: 1px solid black; padding: 5px; margin-right: 10px;">۲- .....</div> <div style="border: 1px solid black; padding: 5px; margin-right: 10px;">۱- ..... و امامان</div> <div style="border: 1px solid black; padding: 5px; margin-right: 10px;">۲- در غیاب امام معصوم، افراد صالح و متقی</div> <div style="margin-right: 10px;">} ویژگی</div> <div style="margin-right: 10px;">} شامل</div> <div style="margin-right: 10px;">} شایستگان حکومت بر مردم از دیدگاه اسلام</div> </div>	
---	---	--

۱	<p>۳۱- در هر یک از موقعیت‌های زیر بهتر است خانواده از چه روشی برای اجتماعی نمودن فرزند خود بهره بگیرد؟ (تشویق - تنبیه - گفتگو) الف) داشتن پوشش مناسب در یک مهمانی خانوادگی: ..... ب) عدم رعایت نظم در انجام دادن تکالیف بعد از چندین بار تذکر: .....</p>	
---	--	--

۱	<p>۳۲- یک مورد از عواملی که موجب ناسازگاری والدین و فرزندان می‌شود را بنویسید. .....</p>	
---	--	--

۱	<p>۳۳- در راستای عمل به فرموده مقام معظم رهبری (مدظله‌العالی) در ارتباط با سیاست اقتصاد مقاومتی، شما به عنوان یک دانش‌آموز در ارتباط با تهیه و یا نگهداری لوازم التحریر خود چه وظیفه‌ای بر عهده دارید؟ (یک مورد) .....</p>	
---	--	--

۱/۵	<p>۳۴- در ارتباط با مفهوم بهره‌وری به سؤالات زیر پاسخ دهید. الف) بهره‌وری به چه معناست؟ ب) اگر شما وزیر آموزش و پرورش بودید برای افزایش بهره‌وری در هر یک از مسائل زیر چه راه حل و پیشنهادی داشتید؟ ۱- کتب درسی: ..... ۲- شناخت استعداد های دانش‌آموزان: .....</p>	
-----	--	--

۲۰	جمع کل	«شاداب باشید»
----	--------	---------------

نام و نام خانوادگی مصحح:	با حروف:	نمره کتبی (برگه)
امضا:	با عدد:	

بخش مدنی